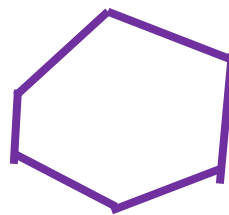





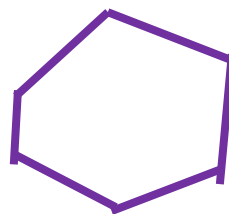



Карточка №1-А

Подпишите названия многоугольников



Карточка №1-В

Соедини стрелками названия многоугольников с геометрическими фигурами



пятиугольник

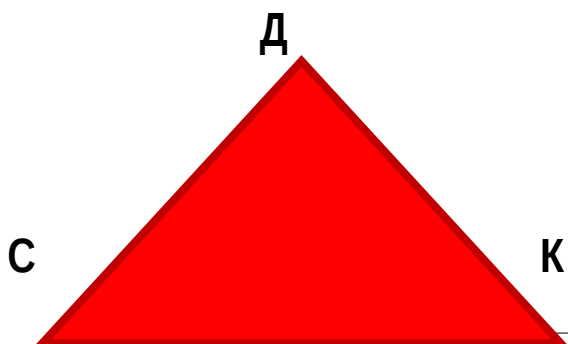
шестиугольник

треугольник

четырёхугольник

Карточка №2-А

Измерьте стороны и вычислите периметр треугольника ABC



Дано:

СДК - треугольник

СД = _____

ДК - _____

СК - _____

Р треугольника = _____

Карточка №3-А

Вычислите периметр четырёхугольника ABCD



Дано:

ABCD - четырёхугольник

AB = _____

BC - _____

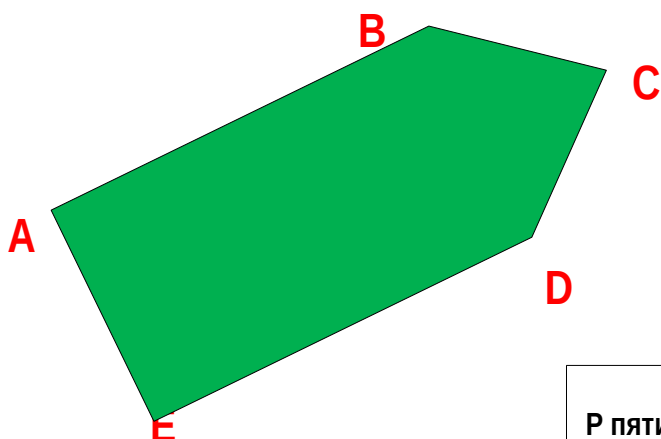
DC - _____

AD - _____

Р четырёхугольника = _____

Карточка №4-А

Вычислите периметр пятиугольника ABCDE



Дано:

ABCDE - пятиугольник

AB = _____

BC - _____

CD - _____

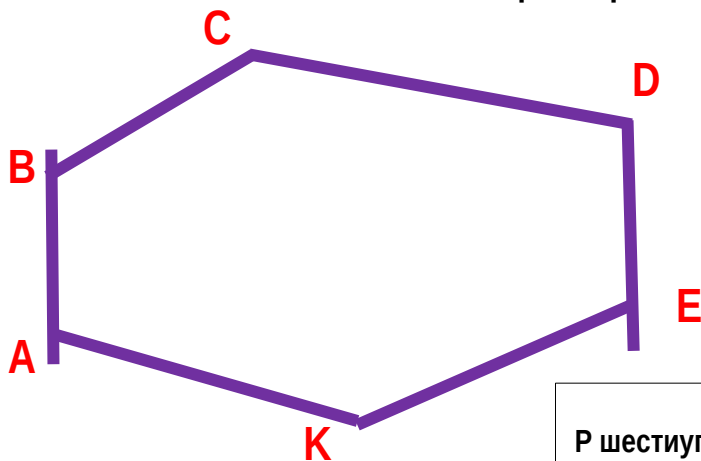
DE - _____

AE - _____

Р пятиугольника = _____

Карточка №5-А

Вычислите периметр шестиугольника ABCDEK



Дано:

ABCDEK - шестиугольник

AB - _____

BC - _____

CD - _____

DE - _____

EK - _____

KA - _____

Р шестиугольника = _____

